

Matemática

1- Represente os numerais abaixo no "Quadro Valor do Lugar"

12

dezena	unidade

8

Dezena	Unidade

10

Dezena	Unidade

2- Efetue os fatos fundamentais abaixo, usando, caso necessário, material concreto

$$\begin{array}{r} 2 \\ + 3 \\ \hline \end{array}$$

$$\begin{array}{r} 1 \\ + 4 \\ \hline \end{array}$$

$$\begin{array}{r} + 6 \\ 4 \\ \hline \end{array}$$

$$\begin{array}{r} + 3 \\ 4 \\ \hline \end{array}$$

$$\begin{array}{r} + 8 \\ 4 \\ \hline \end{array}$$

$$\begin{array}{r} 5 \\ - 2 \\ \hline \end{array}$$

$$\begin{array}{r} 6 \\ - 4 \\ \hline \end{array}$$

$$\begin{array}{r} - 8 \\ 3 \\ \hline \end{array}$$

3- Paulo tinha 5 bolinhas. Deu 2 ao colega. Com quantas bolinhas Paulo ficou? Escreva a resposta no quadrinho abaixo.

A galinha de Maria botou 1 ovo. Maria já havia guardado 6 ovos. Com quantos ovos Maria ficou?

Meu nome é _____





Matemática

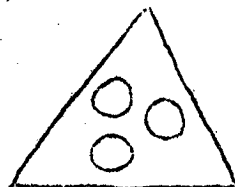
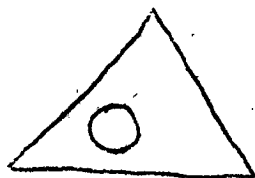
1. Complete a linha numérica



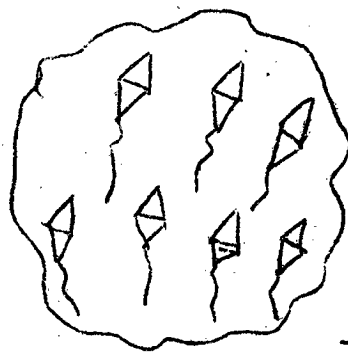

2. Faça uma cruz no conjunto de maior número de elementos



3. Faça uma cruz no conjunto de um só elemento



4. Escreva o numeral que usamos para representar a quantidade de elementos dos conjuntos abaixo




Eu me chamo: -

Conhecimentos Gerais


1- Risque os alimentos



2- Risque o meio de transporte mais rápido.



3- Risque o animal que nos dá o ovo.





4- Risque o animal que tem 4 patas.



5- Risque o pé de feijão que está em fase mais adiantada de crescimento.

Meu nome é _____



6- Agora pinte o feijão que começa a germinar.

7- Risque a casa do cachorro.



8- Risque o animal que pode viver dentro de casa.



9- Desenhe o jornaleiro.

Meu nome é _____